

KHỞI ĐỘNG



Nông trại Vui vẻ



Học tiếp



$$3 \times \dots? \dots = 15$$



A. 4

B. 5

C. 3

D. 6



$$3 \times 9 = ?$$



A. 27

B. 18



C. 36



D. 45



$$3 \times \dots? \dots = 21$$



A. 4

C. 5

B. 7

D. 6



$$3 \times 8 = ?$$



A. 27

C. 32



B. 18



D. 24



$$3 \times \dots? \dots = 30$$



A. 10

B. 9



C. 11



D. 8



Toán 3

BẢNG NHÂN
BẢNG CHIA

(Tiết 2)

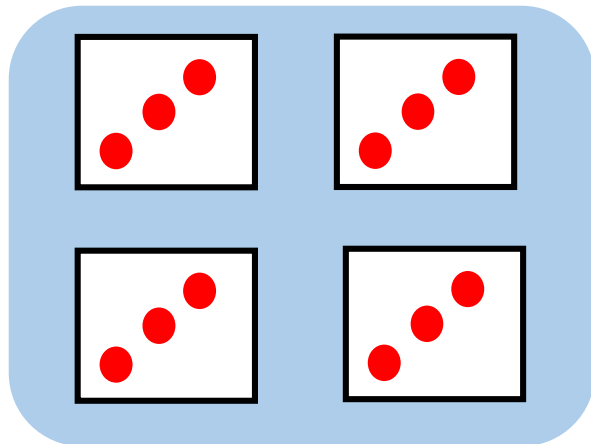




Khám phá



a)



$$3 \times 4 = 12$$



$$12 : 3 = 4$$





b) Hoàn thành bảng chia 3

Lập bảng chia 3 từ bảng nhân 3.



Nhận xét:

- Số bị chia là tích của các phép nhân.
- Số chia đều là số 3.
- Thương là các số tự nhiên tăng dần từ 1 đến 10.

Bảng nhân 3	Bảng chia 3
$3 \times 1 = 3$	$3 : 3 = 1$
$3 \times 2 = 6$	$6 : 3 = 2$
$3 \times 3 = 9$	$9 : 3 = ?$
$3 \times 4 = 12$	$12 : 3 = ?$
$3 \times 5 = 15$	$15 : 3 = ?$
$3 \times 6 = 18$	$18 : 3 = ?$
$3 \times 7 = 21$	$21 : 3 = ?$
$3 \times 8 = 24$	$24 : 3 = ?$
$3 \times 9 = 27$	$27 : 3 = ?$
$3 \times 10 = 30$	$30 : 3 = 10$



Cùng học
bảng chia 3



$$3 : \text{strawberry} = 1$$

$$6 : 3 = \text{strawberry}$$

$$\text{strawberry} : 3 = 3$$

$$12 : \text{strawberry} = 4$$

$$\text{strawberry} : 3 = 5$$

$$18 : \text{strawberry} = 6$$

$$21 : 3 = \text{strawberry}$$

$$\text{strawberry} : 3 = 8$$

$$27 : \text{strawberry} = 9$$

$$30 : 3 = 10 \text{ strawberry}$$




**HOẠT
ĐỘNG**

Số bị chia	6	12	15	21	24	30
Số chia	3	3	3	3	3	3
Thương	2	4	5	7	8	10

Thương = Số bị chia : Số chia





2 Chọn kết quả cho mỗi phép tính?



Luyện Tập

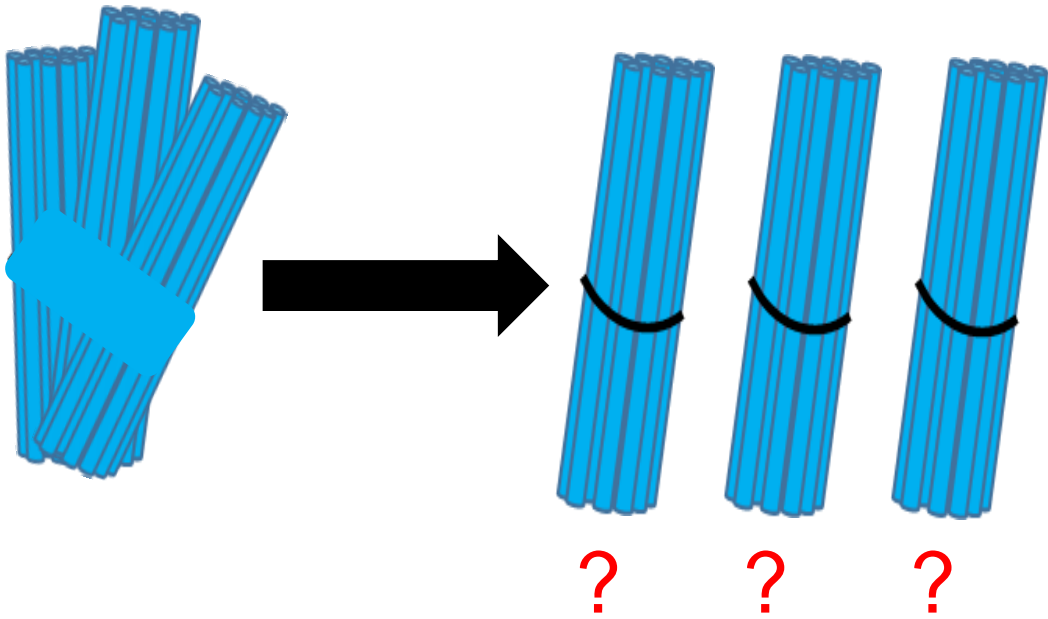


1 Hai phép tính nào dưới đây có cùng kết quả?



2

Chia đều 30 que tính thành 3 bó. Hỏi mỗi bó có bao nhiêu que tính?



Bài giải

Mỗi bó có số que tính là:

$$30 : 3 = 10 \text{ (que tính)}$$

Đáp số: 10 que



+ Về nhà học
thuộc bảng
chia 3

VẬN DỤNG





THU HOẠCH DƯA HẦU






$$30 : 3 = ?$$

A

9

B 

10


C

8

D

7




$$\dots? \dots : 3 = 8$$

A

21

B

28

C

26

D

24





$$27 : 3 = ?$$

A

9



B

6


C

8

D

5




$$\dots? \dots : 3 = 5$$

A

10

B 


15

C

12

D

18



CHÚC CÁC EM
HỌC TỐT!

